

# CONCURSO PÚBLICO

## AGENTE DE TRÂNSITO CARGO 2



### TIPO B

### INSTRUÇÕES

Confira seus dados na folha de respostas. Verifique também se o nome do cargo e o tipo de prova impressos neste caderno correspondem aos indicados na sua folha de respostas. Em seguida, verifique se este caderno contém **quarenta** questões, corretamente ordenadas de 1 a 40. As provas objetivas são constituídas de questões com cinco opções (A, B, C, D e E) e **uma única resposta correta**.

Em caso de divergência de dados e/ou de defeito no caderno de provas, solicite providências ao fiscal de sala mais próximo.

Transcreva as respostas das questões para a folha de respostas, que é o **único documento válido** para a correção das provas e cujo preenchimento é de sua exclusiva responsabilidade. Serão consideradas marcações indevidas as que estiverem em desacordo com o edital de abertura do concurso ou com a folha de respostas, tais como marcação rasurada ou emendada, ou campo de marcação não-preenchido integralmente. Em hipótese alguma haverá substituição da folha de respostas por erro de preenchimento por parte do candidato.

Recomenda-se não marcar respostas ao acaso, pois cada questão cuja resposta divirja do gabarito oficial, além de impossibilitar pontuação, acarretará apenação, conforme consta no edital de abertura.

Para a marcação na folha de respostas, utilize somente caneta esferográfica de tinta **preta**. Não é permitida a marcação na folha de respostas por outra pessoa, ressalvados os casos de atendimento especial previamente deferidos.

É vedado amassar, molhar, dobrar, rasgar ou, de qualquer modo, danificar a sua folha de respostas, sob pena de arcar com os prejuízos decorrentes da impossibilidade de realização da leitura óptica.

A duração das provas é de **três** horas. Você deverá permanecer obrigatoriamente em sala por, no mínimo, uma hora após o início das provas e poderá levar este caderno somente no decurso dos últimos quinze minutos anteriores ao horário determinado para o seu término.

A desobediência a qualquer uma das determinações constantes no presente caderno ou na folha de respostas implicará a anulação das suas provas.

### CRONOGRAMA

| ETAPA   | DIA           |
|---|---------------|
| Divulgação do gabarito oficial preliminar das provas objetivas, no endereço eletrônico <a href="http://www.movens.org.br/portal/semtur.aspx">http://www.movens.org.br/portal/semtur.aspx</a> , a partir das 17 horas. | 8/5/2007      |
| Prazo para entrega de recursos contra o gabarito oficial preliminar das provas objetivas  | 9 e 10/5/2007 |
| Resultado final nas provas objetivas e convocação para a prova de capacidade física   | 29/5/2007     |
| Data provável de realização da prova de capacidade física   | 3/6/2007      |
| Data provável de divulgação do resultado final na prova de capacidade física e de convocação para a avaliação psicológica   | 22/6/2007     |
| Data provável de realização da avaliação psicológica  | 24/6/2007     |
| Data provável de divulgação do resultado final na avaliação psicológica e do resultado final na primeira etapa do concurso para o cargo de Agente de Trânsito   | 18/7/2007     |




Utilize este espaço para rascunho

## LÍNGUA PORTUGUESA

Leia os textos I e II a seguir para responder às questões de 1 a 3.

### Texto I



Internet: <<http://www.mafalda.net>>. Acesso em 10/4/2007.

### Texto II

- 1 Existem muitas definições do que vem a ser um lugar realmente civilizado. Seria o lugar em que se pode comprar um jornal ou um *capuccino* a qualquer hora da noite ou — a definição que eu
- 5 prefiro — um lugar em que se pode pisar numa faixa de segurança com a certeza absoluta de que os carros pararão para o pedestre passar. São as relações entre motorista e pedestre que determinam o grau de civilidade de uma sociedade
- 10 moderna, e a grande diferença entre o primeiro e os outros mundos é que num o pedestre é respeitado e nos outros o pedestre é um estorvo, a ser corrido da frente a buzinas.

- Na Alemanha, como em outros países da
- 15 Europa, a deferência dos carros a pedestres é completa. Além das faixas para atravessar a rua, em que o pedestre é soberano, e ai de quem tocá-lo, existem ciclovias por toda parte com igual segurança para os ciclistas. No Brasil, estamos
- 20 acostumados a ver nos nossos motoristas arrogância e prepotência com os pedestres, com buzinas furiosas e a falta de respeito às faixas de segurança. O pedestre está condenado a ser o que sai da frente.

Luís Fernando Veríssimo. **Sai da Frente**.  
Internet: <<http://www.blogdacidade.org>>.  
Acesso em 27/4/2007 (adaptado).

### QUESTÃO 1

Com base nas idéias do texto II, assinale a opção INCORRETA.

- (A) O autor faz uma análise das relações que se estabelecem entre motoristas e pedestres para discutir a definição de civilidade.
- (B) Depreende-se do texto que o Brasil faz parte do que o autor chamou de “outros mundos” (linha 11).
- (C) Segundo o texto, a deferência dos carros a pedestres é uma característica do trânsito brasileiro.
- (D) Segundo o autor, a soberania do pedestre nas faixas de segurança indica civilidade.
- (E) Para o autor do texto, um lugar realmente civilizado é aquele em que os pedestres são respeitados pelos motoristas.

### QUESTÃO 2

Acerca da pontuação e das relações sintáticas do texto II, assinale a opção INCORRETA.

- (A) Nas linhas 4 e 5, a substituição dos travessões por vírgulas mantém a correção gramatical e a estrutura sintática das orações.
- (B) A inserção de vírgula imediatamente após “mundos”, na linha 11, preserva a correção gramatical e o sentido da frase.
- (C) A expressão “e ai de quem tocá-lo” (linhas 17 e 18) poderia estar entre parênteses, por se tratar de um comentário do autor.
- (D) O emprego da vírgula após “moderna”, na linha 10, justifica-se pela introdução de novo sujeito no período.
- (E) Na linha 14, a vírgula após “Na Alemanha” justifica-se pelo deslocamento do adjunto adverbial de lugar.

### QUESTÃO 3

Considere as seguintes frases do texto II, relativas às relações entre motoristas e pedestres, e assinale aquelas que podem ser relacionadas à forma de tratamento do pedestre retratada no texto I.

- I – “o pedestre é um estorvo, a ser corrido da frente a buzinas” (linhas 12 e 13).
- II – “a deferência dos carros a pedestres é completa” (linhas 15 e 16).
- III – “o pedestre é soberano” (linha 17).
- IV – “estamos acostumados a ver nos nossos motoristas arrogância e prepotência com os pedestres” (linhas 19 a 21).
- V – “O pedestre está condenado a ser o que sai da frente” (linhas 23 e 24).

As frases que se correlacionam ao sentido expresso no texto I são

- (A) I, II e III, apenas.
- (B) I, III e IV, apenas.
- (C) I, IV e V, apenas.
- (D) II, IV e V, apenas.
- (E) III, IV e V, apenas.

**QUESTÃO 4**

Considere que os fragmentos de texto a seguir formam um texto completo, porém desordenado. Numere estes fragmentos, ordenando-os corretamente, conforme a seqüência numérica de 1 a 4, a fim de se obter um texto coeso.

- ( ) Pouco se sabe e quase nada se fala do expressivo contingente de vítimas não-fatais dos vários acidentes e violências. As vítimas não-fatais são a face oculta das causas externas no Brasil. Em que circunstâncias ocorrem seus ferimentos? Em que condições de saúde sobrevivem essas pessoas aos eventos traumáticos dos quais são vítimas? Não se dispõe de informações seguras sequer para afirmar que parcela dessas vítimas torna-se portadora de graves incapacidades físicas e dependerá, por conseguinte, da assistência de serviços de saúde para o resto de suas vidas.
- ( ) A mortalidade não é, porém, o único indicador de profundos impactos humanos, sociais e econômicos, de longo prazo, engendrados pelas causas externas. A maior parte das vítimas de acidentes e de violências sobrevive a esses eventos, demandando atenção dos serviços de saúde. Na última década, a título de exemplo, para cada morto em acidente de trânsito no Brasil, as estatísticas oficiais registraram cerca de 13 feridos. Em números absolutos, mais de 3 milhões e 300 mil pessoas sobreviveram aos acidentes de trânsito, requerendo, em maior ou menor grau, assistência médico-hospitalar.
- ( ) As violências e os acidentes constituem duas das mais importantes causas de mortalidade na sociedade brasileira contemporânea. Genericamente denominadas causas externas, as diversas formas de acidentes e de violências têm sido responsáveis pela quase totalidade das mortes de brasileiros com idades entre 15 e 24 anos.
- ( ) Essa precariedade de informações sobre a morbidade por causas externas no País representa, por conseguinte, um obstáculo concreto à prevenção dessa morbidade.

**Mapa da morbidade por causas externas.** Estudos elaborados pela Rede Sarah de Hospitais de Reabilitação. Internet: <<http://www.estradas.com.br>>. Acesso em 10/4/2007 (adaptado).

**A seqüência correta é**

- (A) 1, 3, 2, 4.  
 (B) 1, 2, 3, 4.  
 (C) 3, 2, 1, 4.  
 (D) 3, 1, 2, 4.  
 (E) 2, 3, 1, 4.

**QUESTÃO 5**

Assinale a opção que contém a seqüência correta para completar as lacunas do texto a seguir, considerando-se as regras de regência que implicam o emprego do acento indicativo de crase.

A obediência \_\_\_\_ sinalização é um dispositivo de segurança viário que favorece \_\_\_\_ formação de um trânsito seguro, mais organizado, mais humano e que ajuda \_\_\_\_ salvar vidas. Dessa forma, deve-se atentar para \_\_\_\_ comunicação estabelecida no trânsito, pois este é um princípio que norteia \_\_\_\_ preservação da vida do ser humano.

Vicente Rocha. **Terra à Vista**. Internet:

<<http://www.transitoweb.com.br>>. Acesso em 18/4/2007 (adaptado).

- (A) à, a, a, a, a.  
 (B) à, à, à, à, à.  
 (C) a, a, a, a, a.  
 (D) à, a, à, a, à.  
 (E) a, à, a, à, a.

**MATEMÁTICA**
**QUESTÃO 6**

Considere que os ônibus de uma certa linha passam por determinado ponto de 7 em 7 minutos. Se um ônibus passou por este ponto às 15h 42min, um passageiro que chegar a este ponto às 18h 03min, para pegar ônibus, terá de esperar um tempo mínimo de

- (A) 1 minuto.  
 (B) 3 minutos.  
 (C) 4 minutos.  
 (D) 5 minutos.  
 (E) 6 minutos.

**QUESTÃO 7**

Um ônibus parte de determinado ponto em uma rodovia circular, fechada, e, ao percorrê-la, pára de 6 em 6 pontos. Sabendo que há um total de 20 pontos ao longo da rodovia, quantas voltas completas, no mínimo, o ônibus fará para voltar a parar no ponto de saída?

- (A) 7  
 (B) 6  
 (C) 5  
 (D) 4  
 (E) 3

**QUESTÃO 8**

Um automóvel faz uma viagem de 340 km e está equipado com um computador de bordo que prevê quanto tempo falta para chegar ao destino final. Isto é feito supondo que a velocidade média do automóvel na parte restante da viagem seja a mesma da parte já percorrida. Passados 40 minutos após a partida, o computador previu que o tempo de viagem restante seria de 5 horas. Sendo assim, quantos quilômetros o automóvel percorreu durante estas últimas 5 horas?

- (A) 60  
 (B) 120  
 (C) 200  
 (D) 300  
 (E) 340

Rascunho

**QUESTÃO 9**

Considere que, em uma seção da Secretaria Municipal de Transportes Urbanos (SEMTUR), há um total de 20 funcionários alfabetizados em língua portuguesa. Destes, 5 lêem textos em inglês, 8 lêem textos em espanhol e 10 não lêem texto em língua estrangeira alguma. Sendo assim, o número de funcionários que lêem textos em inglês e em espanhol é

- (A) 2.
- (B) 3.
- (C) 5.
- (D) 10.
- (E) 20.

**QUESTÃO 10**

Uma torneira com defeito goteja 7 vezes a cada 20 segundos. Admitindo-se que as gotas tenham sempre um volume igual a 0,2 ml, o volume de água desperdiçado em uma hora é de

- (A) 0,252 litros.
- (B) 2,52 litros.
- (C) 25,2 litros.
- (D) 2,52 m<sup>3</sup>.
- (E) 25,2 m<sup>3</sup>.

Rascunho

**NOÇÕES DE INFORMÁTICA**
**QUESTÃO 11**

O Microsoft Windows XP vem com um programa de *backup* denominado Windows Backup ou Utilitário de Backup, que auxilia o usuário a copiar arquivos com o propósito de garantir a restauração, caso estes sejam acidentalmente perdidos, seja por falha humana ou por problema de *hardware*. O Utilitário de Backup oferece algumas opções que podem ser usadas conforme a necessidade dos usuários. Relacione o tipo de *backup* com a descrição do respectivo objetivo e marque a opção correta.

**Tipo de backup**

- I – Incremental
- II – Diário
- III – Normal
- IV – Cópia

**Objetivo**

- ( ) Copia todos os arquivos selecionados e é executado quando o usuário cria um conjunto de *backup* pela primeira vez.
- ( ) Copia somente os arquivos criados ou alterados desde o último *backup* e registra os arquivos como arquivos copiados.
- ( ) Copia somente os arquivos criados ou alterados no dia da execução do *backup*.
- ( ) Copia todos os arquivos selecionados sem interferir nas outras rotinas normais de *backup* e não registra os arquivos que foram copiados.

**A sequência correta é**

- (A) III, II, I e IV.
- (B) I, III, II e IV.
- (C) III, I, II e IV.
- (D) II, III, IV e I.
- (E) IV, I, II e III.

**QUESTÃO 12**

Copiar, renomear e excluir arquivos são atividades cotidianas dos usuários de computadores. Tais atividades auxiliam a gerência e a organização das informações. Assinale a opção que apresenta o aplicativo — que vem instalado com o Sistema Operacional Microsoft Windows — mais indicado para essas atividades.

- (A) Adobe Reader
- (B) Windows Explorer
- (C) Windows Express
- (D) Mozilla Firefox
- (E) Outlook Express

**QUESTÃO 13**

Falhas no fornecimento de energia elétrica são ameaças reais aos sistemas de computadores, tanto no que se refere ao *hardware* quanto ao *software*. Munir-se de mecanismos como estabilizadores, *no-breaks*, filtros de linhas, pára-raios e aterramento ajuda na prevenção dessas ameaças. Nesse contexto, assinale a opção que apresenta uma outra prática que também ajuda a evitar danos no sistema de computadores pessoais.

- (A) Desconectar o computador da tomada quando ele estiver em funcionamento.
- (B) Fechar o programa usado para conexão com a internet (*browser*).
- (C) Esperar 30 minutos após o computador ser ligado para começar a usá-lo.
- (D) Usar a função do sistema operacional para efetuar o desligamento do computador.
- (E) Desligar o computador por meio do botão de ligar/desligar quando este estiver processando dados simples.

**QUESTÃO 14**

A memória principal ou memória RAM é um componente muito importante em um computador. Por ser uma memória de acesso rápido, a quantidade de memória instalada também determina o desempenho ou a capacidade de processamento de um computador. Contudo, na maioria dos computadores pessoais, existe um outro tipo de memória, denominada memória *cache*, com características similares à RAM, no entanto, capaz de armazenar dados mais rapidamente. Em relação à memória *cache*, assinale a opção correta.

- (A) Permite acesso somente de leitura e guarda as informações sobre os componentes internos do computador.
- (B) Permite acesso de leitura e de gravação e é responsável por armazenar os dados que são utilizados com mais frequência.
- (C) Permite acesso somente de gravação e é responsável por armazenar os dados que são utilizados com menos frequência.
- (D) Permite acesso de leitura e de gravação e tem a função de guardar as informações sobre os componentes internos eletrônicos do computador.
- (E) Permite acesso de leitura e de gravação e é responsável por armazenar os dados que são utilizados com menos frequência.

## CONHECIMENTOS GERAIS

**QUESTÃO 15**

A Revolta de Beckman, ocorrida em fevereiro de 1684, é conhecida no Maranhão como Revolução de Bequimão e se insere no contexto da história colonial brasileira como

- (A) Revolta Separatista.
- (B) Revolta Regencial.
- (C) Movimento Pré-independente.
- (D) Movimento Nativista.
- (E) Revolta Emancipacionista.

**QUESTÃO 16**

Destaque do Caderno Alternativo do Jornal "O Estado do Maranhão", em 6 de março de 2007, o cineasta maranhense Arturo Sabóia de Almada Lima arrebatou vários prêmios no festival de cinema de Brasília com o filme

- (A) "Borrvalho", que aborda a questão da morte, com a qual o cineasta explora um contínuo embate entre o céu e a terra.
- (B) "Beira da Estrada", que relata a marginalidade infantil no interior do Maranhão.
- (C) "Aspectos da Cultura Maranhense", documentário sobre a história cultural do Maranhão.
- (D) "Vidas Secas", filme da obra homônima do escritor Graciliano Ramos.
- (E) "Cartas", abordando a história política recente do Maranhão.

**QUESTÃO 17**

Minha Terra natal, em Guaxenduba;  
Na trincheira, em que o luso ainda trabalha,  
A artilharia, que ao francês derruba,  
Por três bocas letais pragueja e ralha.

O leão de França, arregaçando a juba,  
Saltou. E o luso, como um tigre, o atalha.  
Troveja a boca do arcabuz, e a tuba  
Do índio corta o clamor e o medo espalha.

Foi então que se viu, sagrando a guerra,  
Nossa Senhora, com o Menino ao colo,  
Surgir lutando pela minha terra.

Foi-lhe vista na mão a espada em brilho...  
(Pátria, se a Virgem quis assim teu solo,  
Que por ti não fará quem for teu filho?)

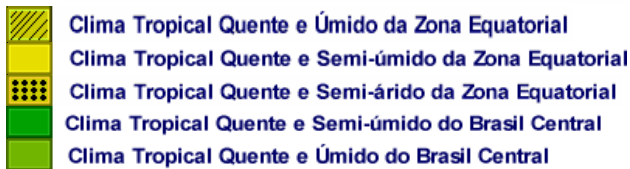
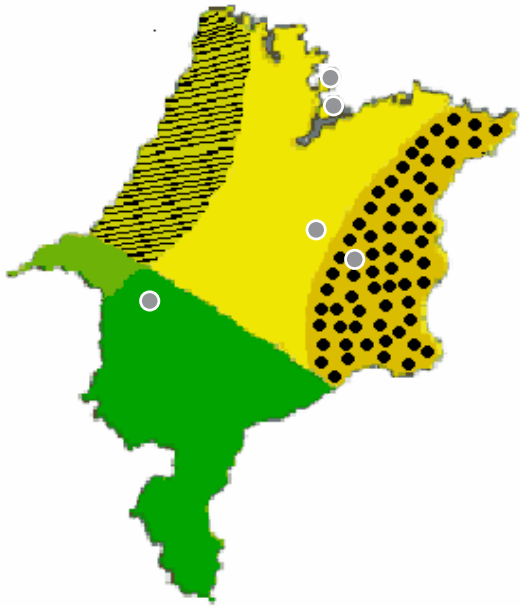
Humberto de Campos. Internet: <<http://www.sonetos.com.br>>.  
Acesso em 27/4/2007.

Assinale a opção que apresenta o fato histórico maranhense relacionado com o soneto de Humberto de Campos.

- (A) A Batalha de São Luís, que impediu a invasão francesa no Maranhão em 1612.
- (B) A Batalha de Guaxenduba, que impediu a invasão francesa no Maranhão em 1612.
- (C) A Batalha de Guaxenduba, de onde se originou a lenda da aparição de Nossa Senhora.
- (D) A Batalha de São Luís, quando os portugueses expulsaram os franceses do território do Maranhão.
- (E) A Batalha de Guaxenduba, quando ocorreu a vitória de Duque de Caxias sobre os invasores franceses.

**QUESTÃO 18**

Observe o mapa do estado do Maranhão a seguir.



(Fonte: <http://www.ma.gov.br/cidadao/estado/geografia/clima.php>).

Acerca das informações apresentadas, assinale a opção correta.

- (A) O clima da cidade de Alcântara corresponde ao clima tropical quente e semi-árido da Zona Equatorial.
- (B) O clima da cidade de Imperatriz corresponde ao clima tropical quente e úmido da Zona Equatorial.
- (C) O clima da cidade de São Luís corresponde ao clima tropical quente e úmido da Zona Equatorial.
- (D) O clima da cidade de Codó corresponde ao clima quente e semi-árido da Zona Equatorial.
- (E) O clima da cidade de Caxias corresponde ao clima quente e úmido da Zona Equatorial.

**CONHECIMENTOS ESPECÍFICOS**

**QUESTÃO 19**

Considere que, no exercício de suas atividades, um Agente de Trânsito multe um cidadão que tenha cometido infração no trânsito por ter estacionado o seu veículo em local proibido. No entanto, ao verificar que o veículo pertence a um parente, não aplica a multa pertinente ao caso. Nesta situação, o Agente de Trânsito cometeu contra a Administração Pública

- (A) crime de peculato.
- (B) crime de prevaricação.
- (C) crime de concussão.
- (D) crime de corrupção passiva.
- (E) condescendência criminosa.

**QUESTÃO 20**

A Constituição Federal prevê em seu corpo princípios que regem a organização da Administração Pública. Um deles determina aos atos administrativos o senso comum de honestidade, a retidão, o equilíbrio, a justiça, o respeito à dignidade da pessoa humana, entre outros. Assinale a opção que apresenta o referido princípio.

- (A) Princípio da moralidade
- (B) Princípio da impessoalidade
- (C) Princípio da finalidade administrativa
- (D) Princípio da eficiência
- (E) Princípio da legalidade

**QUESTÃO 21**

A expressão "infração penal" abrange tanto os crimes quanto as contravenções penais. Existem várias classificações para se definir as infrações penais. A respeito dos conceitos a seguir, assinale a opção INCORRETA.

- (A) Crime qualificado é aquele que a lei prevê circunstâncias que agravam sua natureza e, conseqüentemente, elevam sua pena.
- (B) Crime progressivo é aquele que, em caso de cometimento, outro crime deve ser realizado para se alcançar o resultado pretendido.
- (C) Crime comissivo é aquele praticado quando o agente deixa de fazer o que a lei determina.
- (D) Crime permanente é aquele praticado quando a consumação se prolonga no tempo.
- (E) Crime instantâneo é aquele cometido quando a consumação ocorre em determinado momento e não mais prossegue no tempo.

**QUESTÃO 22**

Em relação ao crime de abuso de autoridade, julgue os itens a seguir, e assinale Verdadeiro (V) ou Falso (F).

- I – Constitui abuso de autoridade a prisão para averiguações, por mais que se queira justificar sua realização na prevenção ao crime.
- II – O abuso de autoridade é considerado um crime próprio, uma vez que pode ser cometido por qualquer pessoa.
- III – Há abuso de autoridade quando a diligência realizada por agente público não é permitida em lei.
- IV – Considera-se abuso de autoridade a não obediência do mandante de ato administrativo às formalidades legais.

A seqüência correta é

- (A) V V V F.
- (B) V F F V.
- (C) F V F F.
- (D) V F V V.
- (E) F F V V.

**QUESTÃO 23**

Em relação à segurança pública, assinale a opção correta.

- (A) A atribuição das polícias civis é de polícia ostensiva para preservação da ordem pública.
- (B) A segurança pública, que é um dever do Estado, é exercida para a preservação da ordem pública e a incolumidade das pessoas e do patrimônio por meio da polícia federal, da polícia rodoviária federal, da polícia ferroviária federal, das polícias civis e das polícias militares e dos corpos de bombeiros militares.
- (C) As polícias civis, assim como as militares e os corpos de bombeiros, estão subordinadas aos chefes do poder executivo dos municípios brasileiros.
- (D) A polícia judiciária também pode ser chamada de polícia preventiva, tendo como uma de suas funções disciplinar a vida em sociedade.
- (E) O trabalho da polícia administrativa é o de reprimir, abusiva e inconstitucionalmente, a livre manifestação de pensamentos, atos e palavras.

**QUESTÃO 24**

Em relação aos direitos e garantias fundamentais previstos pela Constituição Federal, assinale a opção INCORRETA.

- (A) Os direitos e garantias fundamentais não são ilimitados, pois encontram limites quando em confronto com demais direitos consagrados pela Constituição Federal.
- (B) São considerados direitos de segunda geração os atribuídos a todas as formações sociais, reconhecendo os direitos humanos como valores fundamentais para a coletividade.
- (C) O *habeas corpus* é um remédio constitucional garantido até mesmo aos estrangeiros que estão em trânsito pelo território nacional.
- (D) A limitação de idade em concurso público não fere o princípio da igualdade, desde que seja justificada pela natureza do cargo a ser preenchido.
- (E) Os sigilos bancário e fiscal podem ser quebrados pelas Comissões Parlamentares de Inquérito, pela Justiça e pelo Ministério Público.

**QUESTÃO 25**

Em relação à organização administrativa da União, assinale a opção correta.

- (A) As autarquias são entidades administrativas autônomas, criadas por lei específica, com personalidade jurídica de direito público externo.
- (B) Fundações públicas oriundas do direito privado caracterizam-se pela atribuição de personalidade jurídica a determinado patrimônio da União destinado a um fim específico.
- (C) Empresas públicas e sociedades de economia mista são pessoas jurídicas de direito privado, integrantes da administração indireta, que podem ser diferenciadas pelas suas formas jurídicas e pela constituição de seus capitais.
- (D) A administração indireta é o conjunto de pessoas administrativas que, vinculadas à administração direta, tem a competência para o exercício de atividade de forma centralizada.
- (E) A administração direta é o poder exercido pelas chefias de pessoas políticas do Estado, nomeadas pelo Presidente da República, às quais foi atribuída a competência para o exercício de forma centralizada.

**QUESTÃO 26**

Um servidor nomeado para cargo de provimento efetivo, ao entrar em exercício, fica sujeito a estágio probatório pelo período de 3 anos, durante o qual são avaliadas sua aptidão e capacidade para o desempenho do cargo. Como condição para a aquisição de estabilidade, é obrigatória a avaliação especial de desempenho, desdobrada em avaliações parciais a serem realizadas a cada 10 meses durante o período de estágio probatório, mediante a observância de alguns fatores, entre os quais, encontram-se:

- I – produtividade e administração do tempo.
- II – eficiência.
- III – iniciativa e interesse.
- IV – assiduidade e pontualidade.
- V – relacionamento e interação com a equipe.
- VI – disciplina e idoneidade.

Assinale a opção correta.

- (A) Apenas os itens I, II e V estão certos.
- (B) Apenas os itens I, III, IV e VI estão certos.
- (C) Apenas os itens II, III, IV e V estão certos.
- (D) Apenas os itens III, IV e V estão certos.
- (E) Todos os itens estão certos.

**QUESTÃO 27**

Considere que, no momento em que transitava nas ruas de São Luís, um Agente de Trânsito cruzou com outro veículo em circulação e percebeu que o condutor estava falando ao celular enquanto dirigia. Ao verificar tal infração, o agente determinou que o condutor parasse o veículo e lhe aplicou uma multa. Nesta situação, o poder exercido por este Agente de Trânsito corresponde ao

- (A) poder discricionário.
- (B) poder hierárquico.
- (C) poder vinculado.
- (D) poder de polícia.
- (E) poder regulamentar.

**QUESTÃO 28**

Acerca da Administração Pública, assinale a opção INCORRETA.

- (A) A organização política de um Estado federado tem como característica a descentralização, por ter, em um mesmo território, a convivência de diferentes entidades políticas autônomas.
- (B) A centralização administrativa é observada quando os serviços públicos são prestados pelos órgãos da União, do Distrito Federal, dos estados e dos municípios.
- (C) Quando a Administração Pública distribui competências dentro de sua própria estrutura, visando tornar a prestação de serviços mais ágil e eficiente, verifica-se a chamada desconcentração.
- (D) O Estado é pessoa jurídica de direito público que, nas relações com outros Estados soberanos, tem capacidade para adquirir direitos, mas não para contrair obrigações.
- (E) O governo tem a função de zelar pela direção suprema e geral do Estado, determinar seus objetivos e estabelecer as suas diretrizes, visando à unidade da soberania estatal.

**QUESTÃO 29**

O provimento dos cargos públicos, nos termos da Lei n.º 4.615, de 19 de junho de 2006, far-se-á mediante ato da autoridade competente de cada poder e do dirigente superior de autarquia ou de fundação pública, o que significa que o provimento encontra-se descentralizado, permitindo a diversas autoridades exercer a atribuição de prover cargos entre as repartições que deles necessitam, bem como de definir onde serão lotados. Nesse contexto, é correto afirmar que são formas de provimento:

- I – recondução e reintegração.
- II – readaptação e nomeação.
- III – recondução e promoção.
- IV – nomeação e indicação.
- V – reversão e aproveitamento.

Estão certos apenas os itens

- (A) I, II, III e V.
- (B) I, II, IV e V.
- (C) II, IV e V.
- (D) III, IV e V.
- (E) II, III e IV.

**QUESTÃO 30**

A Lei n.º 4.615/2006, ao disciplinar o Regime Jurídico Estatutário dos Servidores Públicos da Administração Direta do Município de São Luís, das Autarquias e das Fundações Públicas Municipais, previu proibições aos servidores municipais, sendo que toda e qualquer proibição é objetiva, na medida em que o seu descumprimento pode ensejar tipificação ou enquadramento penal do infrator. De acordo com essa norma, NÃO é defeso ao servidor público civil do Município de São Luís

- (A) a acumulação remunerada, quando houver compatibilidade de horários, de dois cargos ou empregos privativos de profissionais de saúde, com profissões regulamentadas.
- (B) ausentar-se do serviço durante o expediente, sem prévia autorização escrita do chefe imediato.
- (C) aceitar comissão, emprego ou pensão de Estado estrangeiro.
- (D) cometer a outro servidor atribuições estranhas às do cargo que ocupa, exceto em situações emergenciais e transitórias.
- (E) praticar ato de incontinência pública.

**QUESTÃO 31**

Uma das formas de o Agente de Trânsito da SEMTUR passar à inatividade por invalidez é a aposentadoria por incapacidade de manter-se no serviço público. Outra é a aposentadoria decorrente de doenças graves, contagiosas ou incuráveis. Seja qual for o motivo que enseje a aposentadoria por invalidez, em princípio ela não é definitiva, estando sujeita a pareceres periódicos de juntas médicas, que realizam exames posteriores, os quais irão atestar a permanência das causas da aposentação, ou, inversamente, que elas não mais subsistem. Marque a opção que apresenta o nome do instituto que a Lei n.º 4.615, de 19 de junho de 2006, prevê como retorno à atividade de servidor aposentado por invalidez, quando os motivos da aposentadoria forem declarados insubsistentes por Junta Médica Oficial do Município de São Luís.

- (A) reintegração
- (B) readaptação
- (C) recondução
- (D) exoneração
- (E) reversão

Nas questões de 32 a 37, é apresentada uma situação hipotética acerca da rotina profissional do Agente de Trânsito, seguida das opções a serem analisadas. Considerando as regras previstas no Código de Trânsito Brasileiro e na legislação pertinente, assinale a opção correta para cada situação apresentada.

**QUESTÃO 32**

O Agente de Trânsito Marco Aurélio foi informado de que havia um grupo de rapazes na rua realizando manobras com veículos — conhecidas popularmente como “cavalo-de-pau”. Ao chegar ao local, Marco Aurélio constata as irregularidades e, diante disso, deve proceder ao que estabelece o artigo 175 do Código de Trânsito Brasileiro (CTB). Entre os procedimentos previstos para este caso, está a apreensão do veículo, com a emissão do devido Termo de Apreensão de Veículo, que, de acordo com a Resolução n.º 53/1998, deve, obrigatoriamente, discriminar:

- I – os dados que permitam a precisa identificação do veículo.
- II – a identificação do proprietário e do condutor, quando possível.
- III – os equipamentos acessórios.
- IV – os equipamentos obrigatórios ausentes.
- V – os problemas mecânicos e elétricos do automóvel.
- VI – o estado geral da lataria e da pintura.
- VII – os danos causados por acidente, se for o caso.
- VIII – os objetos que se encontram no veículo.

Estão certos os itens

- (A) I, II, III, IV, V, VI, VII e VIII.
- (B) I, III, V, VI e VII, apenas.
- (C) I, II, IV, VI, VII e VIII, apenas.
- (D) II, III, V, VI e VII, apenas.
- (E) II, III, IV, V, VI e VII, apenas.

**QUESTÃO 33**

Um Agente de Trânsito, em serviço de fiscalização de rotina, aborda um veículo conduzido pelo senhor Antônio Carlos e solicita a ele que apresente os documentos de porte obrigatório. Neste caso, o senhor Antônio Carlos deverá apresentar à autoridade de trânsito:

- (A) o Certificado de Registro de Veículo (CRV) e a Carteira Nacional de Habilitação (CNH).
- (B) o Certificado de Registro de Licenciamento de Veículo (CRLV), o Seguro Obrigatório de Danos Pessoais causados por Veículos Automotores (DPVAT) e a CNH.
- (C) o CRLV e a CNH.
- (D) o CRLV e cópia autenticada da CNH.
- (E) o comprovante de pagamento do Imposto sobre Propriedade de Veículos Automotores (IPVA) e a CNH.

**QUESTÃO 34**

Ao conduzir um microônibus com capacidade para 16 passageiros, José Luís é abordado por um Agente de Trânsito, que lhe solicita a apresentação da CNH. Verificando que a CNH de José Luís é de Categoria “C”, a conduta correta do Agente de Trânsito será

- (A) liberar o veículo e o senhor José Luís.
- (B) multar o senhor José Luís e reter o veículo até que se apresente pessoa habilitada para conduzi-lo.
- (C) multar o senhor José Luís, apreender sua CNH, e reter o veículo até que se apresente pessoa habilitada para conduzi-lo.
- (D) apreender o veículo, multar o senhor José Luís e recolher sua CNH.
- (E) apenas multar o senhor José Luís e liberá-lo.

**QUESTÃO 35**

O Agente de Trânsito Antônio José verificou que o condutor do veículo de placa AAB-3333 estacionou seu veículo sobre a faixa destinada a pedestres. Tendo em vista que a autuação foi em flagrante, julgue os itens a seguir quanto aos dados que deverão obrigatoriamente constar no auto de infração, conforme previsto no artigo 280 do CTB.

- I – Número da Carteira de Identidade, do CPF e da CNH do condutor.
- II – Tipificação da Infração.
- III – Placa de identificação do veículo, marca e espécie.
- IV – Prontuário do condutor, sempre que possível.
- V – Relatório do Agente de Trânsito.
- VI – Identificação do órgão ou entidade e da autoridade ou agente autuador.

Estão certos apenas os itens

- (A) I, II, IV e V.
- (B) I, III e V.
- (C) II, IV, V e VI.
- (D) II, V e VI.
- (E) II, III, IV e VI.

**QUESTÃO 36**

Durante uma fiscalização de rotina, Carolina, Agente de Trânsito da SEMTUR, encontra um veículo impossibilitado de sair do estacionamento, pois outro veículo está estacionado em fila dupla, impedindo sua saída. Nesta situação, Carolina deverá aplicar multa ao condutor do automóvel estacionado irregularmente, uma vez que, de acordo com o CTB, esta infração é

- (A) grave, e, além disso, o veículo deverá ser removido.
- (B) média, e, neste caso, a remoção do veículo é obrigatória.
- (C) gravíssima, e o veículo deverá ser removido e a CNH do condutor apreendida.
- (D) grave, mas não é necessária a remoção do veículo.
- (E) média, devendo ser o veículo removido e a CNH do condutor apreendida.

**QUESTÃO 37**

Júlio César conduz uma motocicleta transportando um passageiro. Ao ser abordado por um Agente de Trânsito, é autuado por não utilizar os equipamentos obrigatórios de segurança. Segundo a legislação de trânsito, nesta situação, Júlio César e seu passageiro deveriam estar utilizando obrigatoriamente:

- (A) capacete, óculos de sol ou corretivo para o condutor e o passageiro.
- (B) capacete afixado pelo conjunto de cinta jugular e engate, viseira e óculos de segurança do trabalho para condutor e capacete simples e óculos de sol ou corretivo para o passageiro.
- (C) capacete afixado pelo conjunto de cinta jugular e engate, com viseira, ou, na ausência desta, óculos de proteção.
- (D) capacete afixado pelo conjunto de cinta jugular e engate, com óculos de sol ou corretivo para o condutor e o passageiro.
- (E) capacete afixado pelo conjunto de cinta jugular e engate, com óculos de sol ou corretivo somente para o condutor. Para o passageiro é dispensado o uso dos óculos de proteção.

**QUESTÃO 38**

Com relação às normas de trânsito, assinale a opção INCORRETA.

- (A) Os veículos precedidos de batedores terão prioridade de passagem, respeitadas as demais normas de circulação.
- (B) Os veículos prestadores de serviços de utilidade pública, quando em atendimento na via, gozam de livre parada e estacionamento no local da prestação de serviço, ainda que não sinalizados.
- (C) A ultrapassagem de outro veículo em movimento deverá ser feita pela esquerda, obedecida a sinalização regulamentar e as demais normas estabelecidas no CTB, exceto quando o veículo a ser ultrapassado estiver sinalizando o propósito de entrar à esquerda.
- (D) Quando veículos, transitando por fluxos que se cruzem, se aproximarem de local não sinalizado, terá preferência de passagem, no caso de rotatória, aquele que estiver circulando por ela.
- (E) Antes de efetuar uma ultrapassagem, todo condutor deverá certificar-se de que nenhum outro condutor que venha atrás tenha iniciado uma manobra para ultrapassá-lo.

**QUESTÃO 39**

Considerando as normas previstas na legislação de trânsito, assinale a opção INCORRETA.

- (A) O ciclista que esteja empurrando a bicicleta assemelha-se ao pedestre em direitos e deveres.
- (B) Os pedestres que estiverem atravessando a via sobre as faixas delimitadas para esse fim terão prioridade de passagem, exceto nos locais com sinalização semaforica, onde deverão ser respeitadas as disposições do CTB.
- (C) Nas áreas urbanas, quando não houver passeios ou quando não for possível a utilização destes, a circulação de pedestres na pista de rolamento será feita pelos bordos da pista, mas sem prioridade sobre os veículos.
- (D) É assegurada ao pedestre a utilização dos passeios ou das passagens apropriadas das vias urbanas e dos acostamentos das vias rurais para circulação, podendo a autoridade competente permitir a utilização de parte da calçada para outros fins, desde que não seja prejudicial ao fluxo de pedestres.
- (E) Nos locais em que houver sinalização semaforica de controle de passagem, será dada preferência aos pedestres que não tenham concluído a travessia, mesmo em caso de mudança do semáforo liberando a passagem dos veículos.

**QUESTÃO 40**

Compete aos órgãos e entidades executivos de trânsito dos municípios, no âmbito de sua circunscrição, EXCETO:

- (A) normatizar os procedimentos relativos a aprendizagem, habilitação, expedição de documentos de condutores e de registro e licenciamento de veículos.
- (B) coletar dados estatísticos e elaborar estudos sobre os acidentes de trânsito e suas causas.
- (C) implantar, manter e operar sistema pago de estacionamento rotativo nas vias.
- (D) conceder autorização para conduzir veículos de propulsão humana e de tração animal.
- (E) aplicar as penalidades de advertência por escrito e multa, em casos de infrações de circulação, estacionamento e parada previstas no CTB, notificando os infratores e arrecadando as multas que aplicar.